

UN DÍA DE CINE

HOLA AMIGOS Y AMIGAS DE 3º:

HOY ES UN DÍA IMPORTANTE PARA MÍ Y MIS AMIGOS. VAMOS A HACER UNA ACTIVIDAD MUY ESPECIAL:

¡NOS VAMOS AL CINE!

PARA CONSEGUIRLO, NECESITAMOS DE TU AYUDA PARA SUPERAR LAS PRUEBAS QUE NOS PLANTEAN, YA QUE NOSOTROS SOMOS NUEVOS EN EL TEMA...



1. Nada más entrar al centro comercial, nos encontramos con el siguiente cartel, que nos dice las horas de apertura y cierre. Señala en el reloj ambas horas e indica, ¿cuántas horas permanece abierto el centro?



APERTURA



CIERRE



El centro comercial permanecerá abierto un total de _____ horas

1.-	UN DÍA DE CINE
CONTENIDO	Medida
PROCESO	Creación
TIPO DE ÍTEM	Respuesta desarrollo
CRITERIO DE CORRECIÓN Y PUNTUACIÓN	<p>Respuesta: Marca correctamente las 10 en ambos relojes e indica que estará abierto 12 horas.</p> <p>Puntuación:</p> <ul style="list-style-type: none"> • 0 puntos- Error en algún reloj y error en horas de apertura • 1 punto- Error en algún reloj o error en horas de apertura • 2 puntos- Todo correcto



2. En el cartel de la entrada al centro comercial nos encontramos con los días festivos del año 2014. Señálalos en el calendario de 2014 e indica qué tienen en común estos días y por qué se llaman “festivos de apertura”.

Festivos de apertura 2014
 5 de enero • 12 de enero • 6 de abril • 4 de mayo
 6 de julio • 7 de septiembre • 1 de noviembre
 6, 14, 21 y 28 de diciembre

Calendario 2014

enero 2014						
lu	ma	mi	ju	vi	sa	do
	1	2	3	4	5	
6	7	8	9	10	11	12
13	14	15	16	17	18	19
20	21	22	23	24	25	26
27	28	29	30	31		

febrero 2014						
lu	ma	mi	ju	vi	sa	do
				1	2	
3	4	5	6	7	8	9
10	11	12	13	14	15	16
17	18	19	20	21	22	23
24	25	26	27	28		

marzo 2014						
lu	ma	mi	ju	vi	sa	do
					1	2
3	4	5	6	7	8	9
10	11	12	13	14	15	16
17	18	19	20	21	22	23
24	25	26	27	28	29	30
31						

abril 2014						
lu	ma	mi	ju	vi	sa	do
	1	2	3	4	5	6
7	8	9	10	11	12	13
14	15	16	17	18	19	20
21	22	23	24	25	26	27
28	29	30				

mayo 2014						
lu	ma	mi	ju	vi	sa	do
			1	2	3	4
5	6	7	8	9	10	11
12	13	14	15	16	17	18
19	20	21	22	23	24	25
26	27	28	29	30	31	

junio 2014						
lu	ma	mi	ju	vi	sa	do
						1
2	3	4	5	6	7	8
9	10	11	12	13	14	15
16	17	18	19	20	21	22
23	24	25	26	27	28	29
30						

julio 2014						
lu	ma	mi	ju	vi	sa	do
	1	2	3	4	5	6
7	8	9	10	11	12	13
14	15	16	17	18	19	20
21	22	23	24	25	26	27
28	29	30	31			

agosto 2014						
lu	ma	mi	ju	vi	sa	do
			1	2	3	
4	5	6	7	8	9	10
11	12	13	14	15	16	17
18	19	20	21	22	23	24
25	26	27	28	29	30	31

septiembre 2014						
lu	ma	mi	ju	vi	sa	do
	1	2	3	4	5	6
7	8	9	10	11	12	13
14	15	16	17	18	19	20
21	22	23	24	25	26	27
28	29	30				

octubre 2014						
lu	ma	mi	ju	vi	sa	do
	1	2	3	4	5	
6	7	8	9	10	11	12
13	14	15	16	17	18	19
20	21	22	23	24	25	26
27	28	29	30	31		

noviembre 2014						
lu	ma	mi	ju	vi	sa	do
				1	2	
3	4	5	6	7	8	9
10	11	12	13	14	15	16
17	18	19	20	21	22	23
24	25	26	27	28	29	30

diciembre 2014						
lu	ma	mi	ju	vi	sa	do
	1	2	3	4	5	6
7	8	9	10	11	12	13
14	15	16	17	18	19	20
21	22	23	24	25	26	27
28	29	30	31			





Los días marcados tienen en común

Porque _____






2.-	UN DÍA DE CINE
CONTENIDO	Medida
PROCESO	Creación
TIPO DE ÍTEM	Respuesta desarrollo
CRITERIO DE CORRECIÓN Y PUNTUACIÓN	<p>Respuesta correcta: Marca correctamente las fechas en el calendario. Indica que la mayoría son domingos y sábados (o son fin de semana o no se trabaja) Explica que abrirán esos días aunque es fiesta.</p> <p>Puntuación:</p> <ul style="list-style-type: none"> • 0 puntos- Nada correcto. • 1 punto- Sólo marca las fechas correctamente. • 2 puntos- Marca las fechas y explica qué tienen en común • 3 puntos- Todo correcto

2

3. Este es un plano sencillo del centro comercial.

F	 CINE					
E						
D			 HELADERÍA			
C	 BOCATERÍA					
B					 BOLERA	
A						
	1	2	3	4	5	6

Escribe aquí las coordenadas de estos sitios y dibuja en su sitio del plano la tienda de chuches:

				
<input type="text"/>	<input type="text"/>	<input type="text"/>	<input type="text"/>	<input type="text" value="3"/> <input type="text" value="E"/>

3.-	UN DÍA DE CINE
CONTENIDO	Geometría
PROCESO	Análisis
TIPO DE ÍTEM	Respuesta desarrollo
CRITERIO DE CORRECIÓN Y PUNTUACIÓN	<p>Respuesta correcta: Parte 1- cine (1,F) bocatería (2,C) heladería (4,D) bolera (6,B) Parte 2- Escribe "CHUCHES" en el cuadrado 3,E.</p> <p>Puntuación:</p> <ul style="list-style-type: none"> 0 puntos- Algún fallo en la primera parte. 1 punto- La primera parte completa correcta y la segunda errónea 2 puntos- Las dos partes correctas. <p><u>Nota:</u> Se considerará correcto si se colocan las coordenadas (letra,número) en lugar de (número,letra)</p>